
	Control del Proceso Educativo Guía 6 de Historia, Geografía y Ciencias Sociales 6° Básico			7. 5. 1
	<i>Instituto San Lorenzo</i>	<i>Departamento de Historia Enseñanza Básica</i>		

Profesora de Asignatura: Daniela Riquelme Padilla – Irma Varas Espinoza
3° Unidad: Geografía de Chile
Objetivo: Comparar diversos ambientes naturales en Chile (desértico, altiplánico, costero, andino, mediterráneo, frío y lluvioso, patagónico y polar), considerando como criterios las oportunidades y dificultades que presentan y cómo las personas las han aprovechado y superado para vivir y desarrollarse.
Habilidad: Comparar.

Nombre:	Curso:	Fecha: 11/ 2021
----------------	---------------	------------------------

LECTURAS:

“El territorio chileno está constituido por una serie de **elementos** que lo configuran y caracterizan, como límites fronterizos, su organización político-administrativo o su localización. Para establecer Esta última, debemos conocer la **ubicación** del territorio a partir de las coordenadas geográficas y su **situación**, es decir, las relaciones que ese territorio establece con su entorno producto de su localización, y que determinan una serie de ventajas o desventajas. La situación de Chile es ventajosa, pues se encuentra en la cuenca del Pacífico, donde se localizan las principales economías del mundo. Otro rasgo de Chile es su carácter tricontinental, lo que significa que tiene territorios: América, Oceanía y Antártica”.

REPASEMOS



1.-De acuerdo con el carácter tricontinental del territorio chileno, coloca al lado de cada paisaje en el recuadro correspondiente el nombre del territorio que representa según la lectura anterior.







Escrito por: Irma Varas	Revisado por Jefe de Departamento: Daniela Riquelme	Autorizado por Coordinación de E. Básica.
-------------------------	---	---

	Control del Proceso Educativo Guía 6 de Historia, Geografía y Ciencias Sociales 6° Básico			7. 5. 1
	<i>Instituto San Lorenzo</i>	<i>Departamento de Historia Enseñanza Básica</i>	<i>Rev. 01 Pág. 2 de 3</i>	

2.-Lee los siguientes documentos y responde.

Documento 1

La región norteña de Chile comprende un gran despoblado, una desesperante y yerma inmensidad cubierta por un cielo implacablemente azul: un desierto en todos los sentidos. Las planicies son secas y las montañas áridas, salvo algunos valles que perfuman las frutas del trópico. No se encuentra ni un árbol, ni una brizna de yerba. Es una tierra desnuda y un verdadero arenal que deslumbra e hipnotiza.

André Bellessort, escritor francés, 1897.

Documento 2

Me alejo con pena de Chile, la nación hermana que más quiero. De Chile que, parodiando ciertas propagandas comerciales, es una nación de cuatro en una. En efecto: en el Norte, árido y yermo está la desolación desértica de Marruecos. En el centro, esmaltado de verde, caudaloso de perfumes y pámpanos, la belleza pródiga de Portugal. Al Sur, entre la seda de los lagos araucanos, la nieve de los volcanes y el encanto de sus aldeas, las maravillas de Suiza. Y en el remoto confín, donde los Andes ceden al Pacífico, entre la nieblas y celajes, las rocas que charlan en los archipiélagos y las rocas que abrazan a los fiordos, la gracia velada de Noruega.


Juan Filloy, escritor argentino

a.- ¿Qué características del paisaje natural se destacan en los documentos?

R/

b.-En el documento 2 ¿Con qué localidades del mundo el autor hace símbolos referidos a los paisajes de nuestro territorio?

R/

	Control del Proceso Educativo Guía 6 de Historia, Geografía y Ciencias Sociales 6° Básico		R	7. 5. 1
	<i>Instituto San Lorenzo</i>	<i>Departamento de Historia Enseñanza Básica</i>	<i>Rev. 01 Pág. 3 de 3</i>	

3.- Las zonas naturales corresponden a las regiones: ¿Qué región falta en el esquema? Y ¿En qué zona natural se ubicaría?

Zona	Norte Grande	Norte Chico	Zona Central	Zona Sur	Zona Austral
Regiones	XV, I, II	III y IV	V, RM, VI, VII, y VIII	IX, XIV y X	XI y XII

4.- ¿Por qué la situación de Chile en el mundo es ventajosa?

R/

5.- Completa la siguiente ficha con información del territorio chileno:

Chile se localiza en el hemisferio _____ y _____. Se ubica al _____ de la línea del Ecuador y al _____ del Meridiano de Greenwich. Su territorio se encuentra en la cuenca del océano _____. En América del Sur, el territorio chileno limita al _____ con el Perú y al _____ con Bolivia y Argentina.

Chile controla el _____ que comunica el Pacífico con el Atlántico.

Escrito por: Irma Varas	Revisado por Jefe de Departamento: Daniela Riquelme	Autorizado por Coordinación de E. Básica.
-------------------------	---	---