

Nombre : _____

¿ Qué hora es?

07:30		

Las 7 y media



10 : 30

Las diez y media.



:



:



:



:



:



:

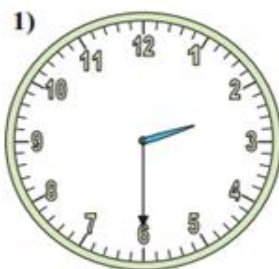


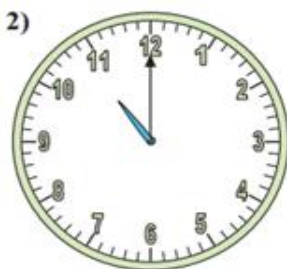
:

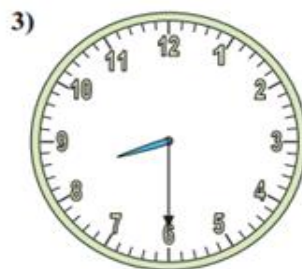


:

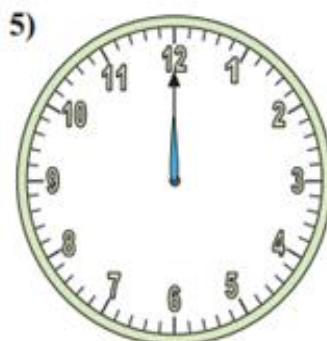
Escriba en **digital** la hora que muestra cada reloj.

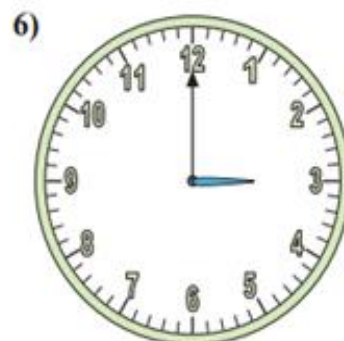












Escribe en **palabras** la hora de cada reloj



