
	Control del Proceso Educativo Historia, geografía y Ciencias Sociales 7° BASICO			7. 5. 1.
	Instituto San Lorenzo	Coordinación Enseñanza Media		

<b>Nombre:</b>	<b>Curso:</b>	<b>Fecha:</b> 08/06/ 2021
----------------	---------------	---------------------------

<b>Profesora de Asignatura:</b> Irma Varas Espinoza
<b>Unidad 2:</b> ¿Cómo cambió la vida de los seres humanos desde sus orígenes hasta las primeras civilizaciones?
<b>OA 21:</b> Reconocer procesos de adaptación y transformación que se derivan de la relación entre el ser humano y el medio.
<b>Habilidad:</b> Interpretar datos e información geográfica utilizando tecnología apropiada.

## JUNIO-SEMANA 2

Clase 1 y 2

**Contenidos:** -Entorno y desarrollo de las Primeras Civilizaciones.  
 -La ciudad, centro de la civilización

**Obj. de la clase:** Identificar el entorno geográfico de las primeras civilizaciones, propiciando causas y consecuencias en el aspecto económico, social, político y religioso.

### ACTIVIDADES

Utilizando como Fuentes PPP, y texto pags. 52 a 59, se realizarán los siguientes Ejercicios y luego dar los resultados de cada uno.

**Ejercicio 1.:** Define los siguientes conceptos según págs.52 y 53 en Fuentes A;B y C



a.- Civilizaciones fluviales

R/

b.-Obras hidráulicas.

R/

Escrito por: Irma Varas	Revisado por jefe de Departamento: Daniela Riquelme	Aprobado por Coordinación de Ciclo
-------------------------	---	------------------------------------

	Control del Proceso Educativo Historia, geografía y Ciencias Sociales 7° BASICO			7. 5. 1.
	<i>Instituto San Lorenzo</i>	<i>Coordinación Enseñanza Media</i>		

c.-Civilizaciones madres.

R/

d.-Civilizaciones marítimas:

R/

**Ejercicio 2** : Leídas las Fuentes comprensivamente,págs.52,53, responde a las siguientes preguntas:

a.-¿Cómo fueron los entornos en que se desarrollaron las primeras civilizaciones?

R/

b.- ¿Qué civilizaciones pertenecieron a la Creciente Fértil?

R/



c.- ¿Por qué se piensa que la agricultura fue tan importante para el origen de las primeras civilizaciones?

R/

d.-¿Qué importancia tiene en el presente (hoy) la actividad agrícola?

R/

Escrito por: Irma Varas	Revisado por jefe de Departamento: Daniela Riquelme	Aprobado por Coordinación de Ciclo
-------------------------	---	------------------------------------

	Control del Proceso Educativo Historia, geografía y Ciencias Sociales 7° BASICO			7. 5. 1.
	<i>Instituto San Lorenzo</i>	<i>Coordinación Enseñanza Media</i>		

e.-¿Cuáles son las civilizaciones del Lajano Oriente?

R/

f.-¿Con qué entorno geográfico se relacionan las civilizaciones de Fenicia y Creta o minoica?

R/

g.-¿ Que significado tiene la simbología de flechas rojas en la Fuente B?

R/

**Ejercicio3.:** Trabajo de mapa.( ver Fuente mapa A)

Como ya se trabajó el siguiente mapa (planisferio) en la semana1, en esta semana lo aplicaremos en las siguientes actividades:

- a.-Anota en el lugar que corresponde: Egipto, Mesopotamia, India y China
- b.-Dibuja en el lugar correspondiente la forma de los ríos: Nilo (en Egipto), Eufrates y Tigris (en Mesopotamia),Indo (en India) y los ríos Amarillo y Azul (en China).
- c.-Ubica y anota en el lugar correspondiente : Mar Mediterráneo, mar Rojo, océano Indico, mar Árabe,golfo de Bengala, mar Amarillo y mar de China Oriental.

Escrito por: Irma Varas	Revisado por jefe de Departamento: Daniela Riquelme	Aprobado por Coordinación de Ciclo
-------------------------	---	------------------------------------



**Ejercicio 4:** De acuerdo a las actividades del ejercicio 3, concluya:

a.- ¿Qué tienen en común las civilizaciones indicadas, que les permitió sobrevivir?

R/

b.- ¿Por qué Heródoto, un historiador griego, consideró a Egipto que es “un don del Nilo” (consulte en Google)

R/

c.- ¿Cuál es la civilización en estudio, cuyo nombre significa “entre ríos” (consulte en Google)

R/

**Ejercicio 5.:** De acuerdo a la fuente escrita de la Fuente B, pág. 53, responde:  
 a.- ¿Qué actividad económica iniciaron primero los fenicios y minoico o cretenses?

R/

b.- ¿Por qué se dedicaron a la actividad marítima, fenicios y cretenses?

R/

**Ejercicio 6.:** Para averiguar. (Uso de fuentes por internet u otros)

Completa el siguiente esquema con los países actuales que se ubican, donde estuvieron las civilizaciones de la antigüedad.

Civilización	País o países actuales
Mesopotamia.	
Fenicia.	
Creta o minoica.	
Olmeca.	
Chavín.	