



Nombre: _____

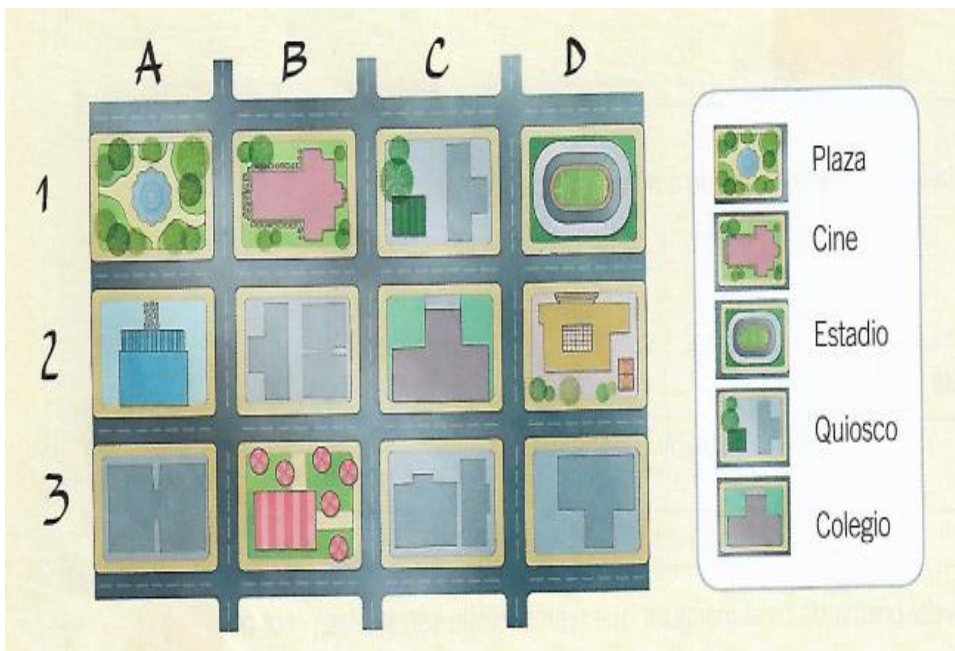
Unidad de ubicación espacial

Indicaciones: esta guía es evaluada en el taller de matemática. Es importante que la respondas claramente. Cuando la termines, debes enviarla por classroom para evaluar. El plazo de entrega es hasta el viernes 4 de junio.

Esta guía consta de 34 puntos.

Recuerda si no puedes imprimir, realiza las actividades en tu cuaderno.

1.- Observa el plano y responde. (2 pto c/u = total 10 puntos)



a.- ¿En qué coordenadas se ubica el cine? _____

b.- ¿En qué coordenada se ubica el quiosco? _____

c.- ¿En qué coordenadas se ubica la plaza? _____

d.- ¿En qué coordenadas se ubica el colegio? _____


e.- ¿En qué coordenadas se ubica el estadio? _____




2.- **Pinta los casilleros de la cuadrícula** según las siguientes indicaciones.

(2 pts c/u = total 8 pts.)

a.  : E4 y E7.

b.  : I4, J5, J6 y I7.

c.  : I1, J1, J2, K2, K3, K8, K9, J9, I10, J10, K10.

d.  : A2, A3, A4, A5, A6, A7, A8, B2, B3, B4, B5, B6, B7, B8, B9, C1, C2, C5, C6, C9, D1, E1, D10, E10, C10, F1, F10, H1, H2, H3, H4, H5, H6, H7, H8, H9, H10, I2, I3, I5, I6, I8, I9, J3, J4, J7, J8, G1, G2, G5, G6, G9, G10, K4, K5, K6, K7.

	1	2	3	4	5	6	7	8	9	10
A										
B										
C										
D										
E										
F										
G										
H										
I										
J										
K										



3.- **Escribe en el plano** el nombre de cada uno de los lugares que se describen.


(2 punto c/u = total 10 puntos)

a.- En el centro se encuentra la **plaza**.

b.- Frente a la plaza se encuentra la **verdulería**.

c.- A la izquierda de la plaza se encuentran **carabineros** y la **biblioteca**.

d.- A la derecha de la plaza y frente a la heladería se encuentra el **colegio**.



3.- **Completa el plano** a partir de las indicaciones dadas. (2 pts c/u = total 6 pts)

a.- Los **bomberos** están a la derecha del correo, arriba de la plaza.

b.- El **hospital** está a la izquierda del supermercado.

c.- La **iglesia** está a la derecha de la plaza y arriba del quiosco.

