
	Control del Proceso Educativo Guía 9 Historia, Geografía y Ciencias Sociales 4° Básico Primera Unidad			7. 5. 1.
	<i>Instituto San Lorenzo</i>	<i>Coordinación Educación Básica</i>	<i>Rev.01 Pág. 1 de 3</i>	

Profesora de Asignatura: Daniela Riquelme Padilla
1° Unidad: Ubicando lugares de América en los mapas.
Objetivo: Evaluar los conceptos de localización absoluta, usando líneas de referencia, latitud y longitud.
Habilidad: Evaluar.
NOTA: Este es un trabajo evaluado, por favor enviar su trabajo en la fecha que se indique.

EVALUACIÓN DE HISTORIA, GEOGRAFÍA Y CIENCIAS SOCIALES

El siguiente trabajo es con nota sumativa y consta de dos partes:



1° Parte

Materiales:

- 1 hoja de block médium
- 1 planisferio (se adjunta en esta guía)
- Plasticina – papel lustre – palitos de cocktail o brochetas
- Pegamento en barra – tijeras – lápices de colores - regla
- Si aparte de estos materiales, consideras importante usar otros, puedes hacerlo.

Proceso:

- 1.- En la hoja de block, pegar el planisferio.
- 2.- marcar con una línea roja el paralelo 0° (línea del ecuador) y con una línea azul el meridiano 0° (Greenwich).
- 3.- Divide en 4 un papel lustre, y en cada trozo anota los puntos cardinales (norte, sur, este y oeste). Luego, ubícalos donde corresponde en el planisferio.
- 4.- Identifica la localización absoluta de la tabla que está más abajo en esta guía, en el planisferio, y márcalos con plasticina.
- 5.- En el papel lustre, anota la localización absoluta de cada uno de los puntos marcados con plasticina. Recórtalo y pégalo en un palito. Luego insértalo en la plasticina, en la ubicación que corresponda.

	Control del Proceso Educativo Guía 9 Historia, Geografía y Ciencias Sociales 4° Básico Primera Unidad			7. 5. 1.
	<i>Instituto San Lorenzo</i>	<i>Coordinación Educación Básica</i>	<i>Rev.01 Pág. 2 de 3</i>	

2° parte

- Debes elaborar un video, de no más de 5 minutos, mostrando tu trabajo terminado, y explicando en qué consiste la localización absoluta, tomando en cuenta paralelos, meridianos, puntos cardinales.
- Debes usar como ejemplo dos de las ubicaciones absolutas que buscaste en el mapa, y que dejo a continuación.

Punto	Latitud	Longitud
1	40° latitud norte	10° longitud oeste
2	10° latitud norte	100° longitud este
3	40° latitud sur	40° longitud este
4	20° latitud sur	10° longitud oeste
5	60° latitud norte	30° longitud este
6	80° latitud norte	120° longitud oeste
7	50° latitud sur	10° longitud oeste

FECHA DE ENTREGA

Este trabajo, y su video, debe ser enviado como fecha tope el viernes 14 de mayo. Debe enviarlo a mi correo danielariquelme@isl.cl No se envía por Classroom. En el Correo, debe escribir su nombre y curso. La foto de su trabajo debe ser nítida.

La pauta de evaluación es la siguiente.

N°	Criterios	P. Ideal
1	Envía su trabajo y video en la fecha indicada.	6
2	Identifica en el planisferio el paralelo y meridiano 0°.	4
3	Identifica puntos cardinales.	3
4	Marca con plasticina las ubicaciones absolutas.	4
5	Identifica con papel lustre las ubicaciones absolutas.	4
6	En el video, explica la localización absoluta y sus elementos.	6
7	Su trabajo es limpio y ordenado.	5
8	Su voz en el video es fuerte y clara.	5
	Puntaje total	37

Recuerda que, si tienes dudas o consultas, puedes escribir a mi correo danielariquelme@isl.cl o también puedes preguntar en clases.

Mucha suerte, y espero que te diviertas haciendo este trabajo.



Control del Proceso Educativo
Guía 9 Historia, Geografía y Ciencias Sociales
4° Básico
Primera Unidad

P

7.
5.
1.

Instituto San Lorenzo

Coordinación Educación Básica

Rev.01 Pág. 3 de 3

PLANISFERIO

