
	Control del Proceso Educativo ALGORITMO DE LA SUSTRACCIÓN Guía N°7 Cuartos Básicos			7. 5. 1.
	<i>Instituto San Lorenzo</i>	<i>Coordinación Educación Básica</i>		<i>Rev. 0 Pág. 1 de 1</i>

Nombre: _____



Objetivo: Conocer y comprender el algoritmo de la sustracción

Habilidad: Conocer y comprender

Actividad

1.- Resuelve las sustracciones utilizando el algoritmo abreviado

$\begin{array}{r} _ 7.532 \\ \underline{2.450} \end{array}$	$\begin{array}{r} _ 8.530 \\ \underline{3.190} \end{array}$	$\begin{array}{r} _ 6.530 \\ \underline{4.270} \end{array}$
$\begin{array}{r} _ 9.805 \\ \underline{8.543} \end{array}$	$\begin{array}{r} _ 2.500 \\ \underline{1.390} \end{array}$	$\begin{array}{r} _ 5.308 \\ \underline{2.183} \end{array}$
$\begin{array}{r} _ 1.234 \\ \underline{1.203} \end{array}$	$\begin{array}{r} _ 3.653 \\ \underline{2.141} \end{array}$	$\begin{array}{r} _ 8.634 \\ \underline{5.942} \end{array}$
$\begin{array}{r} _ 6.533 \\ \underline{3.281} \end{array}$	$\begin{array}{r} _ 5.789 \\ \underline{3.874} \end{array}$	$\begin{array}{r} _ 9.324 \\ \underline{2.423} \end{array}$

	Control del Proceso Educativo ALGORITMO DE LA SUSTRACCIÓN Guía N°7 Cuartos Básicos			7. 5. 1.
	<i>Instituto San Lorenzo</i>	<i>Coordinación Educación Básica</i>	<i>Rev. 0 Pág. 2 de 1</i>	

2.- Resuelve los siguientes problemas:

a) Un grupo de amigas vendió 364 remolinos el día jueves y 543 el día viernes. ¿Cuántos volantines más vendieron el día viernes que el día jueves?



Debo:
Operación:
Respuesta:

b) En una empresa se fabricó 734 sillas una semana y a la semana siguiente fabricaron 850 sillas. ¿Cuántos más fabricaron a la segunda semana?

Debo:
Operación:
Respuesta:

c) Daniela ha comprado 658 chalecos para comenzar su negocio. El primer mes logra vender 389 chalecos. ¿Cuántos chalecos le quedan por vender?

Debo:
Operación:
Respuesta:

	Control del Proceso Educativo ALGORITMO DE LA SUSTRACCIÓN Guía N°7 Cuartos Básicos			7. 5. 1.
	<i>Instituto San Lorenzo</i>	<i>Coordinación Educación Básica</i>		<i>Rev. 0 Pág. 3 de 1</i>

d) Rosita compra una chaqueta en \$7.190 y María compra su chaqueta en \$6.400

¿Cuánto más le costó la chaqueta a Rosita que a María?

Debo:
Operación:
Respuesta:

3. Cálculo mental

- a) $15 - 5 =$
- b) $29 - 13 =$
- c) $75 - 20 =$
- d) $145 - 15 =$
- e) $200 - 50 =$
- f) $250 - 70 =$

4.- Resuelve las siguientes sustracciones.

a.- $8.432 - 5.640 =$

b.- $7.420 - 6.923 =$

c.- $3.122 - 2.654 =$