

	Control del Proceso Educativo Guía 7 Historia, Geografía y Ciencias Sociales 2° Básico		P	7. 5. 1.
	<i>Instituto San Lorenzo</i>	<i>Coordinación Educación Básica</i>	<i>Rev.01 Pág. 1 de 4</i>	

Profesora de Asignatura: Daniela Riquelme Padilla – Ángeles Gómez
1° Unidad: Cómo me ubico en el mundo.
Objetivo: Conocer e identificar la ubicación de Chile en el planisferio. Conocer Chile y sus regiones.
Habilidad: Conocer, identificar.
NOTA: Esta guía se desarrolla exclusivamente en clases. Por favor, no responder sus preguntas.

Ubicación de Chile.

Recordemos:

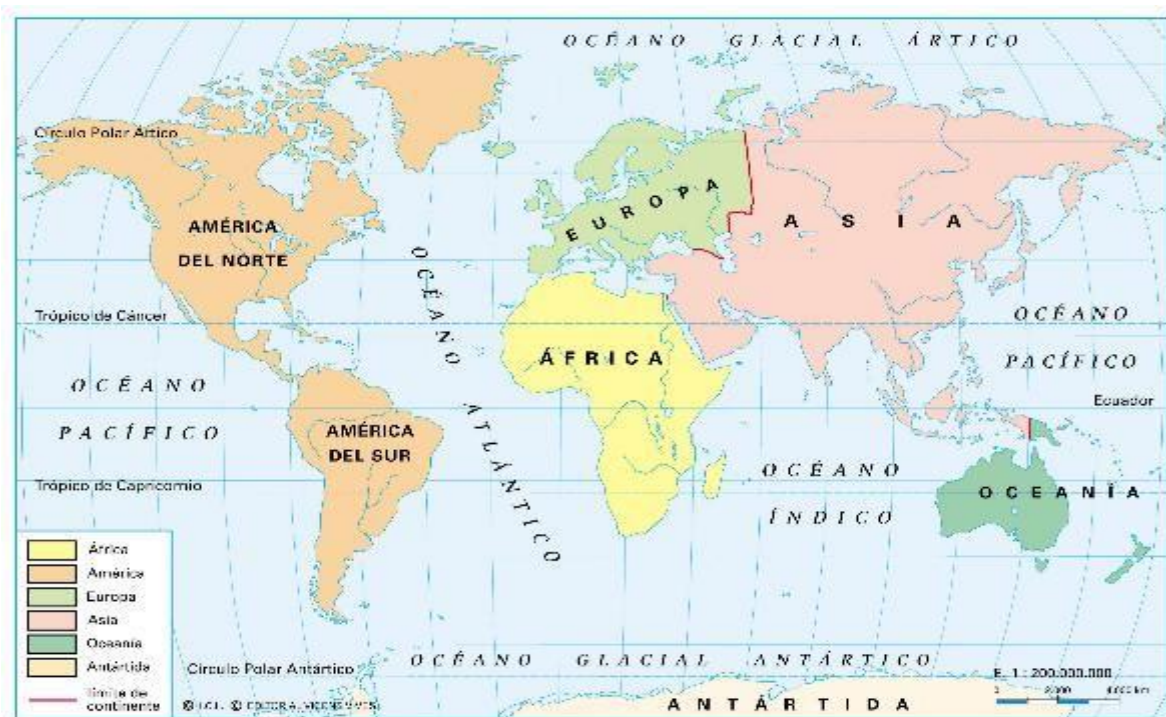
Anteriormente, aprendimos que el planisferio es una manera de representación de nuestro planeta tierra de forma plana. Por otra parte, en cada continente, que recuerda son seis: América, Asia, Antártida, Oceanía, Europa y África encontramos diferentes países


¿Has escuchado en qué continente se encuentra nuestro país?

Nuestro país se llama **Chile** y se caracteriza por ser un país largo ya angosto. Además, es un **país tricontinental** esto quiere decir tiene presencia en continentes como: América, Antártica y en el caso de Rapa Nui que es una isla tiene presencia en Oceanía.

Observa la siguiente imagen de planisferio:

- Importante es mencionar que América es un solo continente que se divide en América del Norte, América del Centro y América del Sur.




	Control del Proceso Educativo Guía 7 Historia, Geografía y Ciencias Sociales 2° Básico		P	7. 5. 1.
	<i>Instituto San Lorenzo</i>	<i>Coordinación Educación Básica</i>	<i>Rev.01 Pág. 2 de 4</i>	

En el siguiente mapa se muestra el continente americano, en América del Sur se encuentra Chile. Es ese país largo y angosto que se encuentra pintado de color rojo.

Chile se encuentra ubicado en América del sur.

Chile limita: Al norte con Perú, al este con Bolivia y Argentina, al oeste con el Océano Pacífico y al sur con el Polo Sur.

- En el recuadro dibuja la rosa de los vientos y luego ubica los puntos cardinales.



Actividad:

1.- ¿Al observar el planisferio de la página anterior, que información crees que nos puede entregar?

--	--

2.- ¿En qué continente se encuentra Chile?

--	--

3.- Mira el mapa de América del sur y escribe en el recuadro que países o territorios limitan con Chile:

Norte:	Sur:
Este:	Oeste:

4.- ¿Para qué usarías un mapa?

--	--



Chile y sus regiones

➤ Nuestro país se divide en regiones, las cuales son las siguientes:



-Al observar el mapa, te puedes dar cuenta que cada color representa una región y, a su vez, al mirar la simbología esta nos indica que existe una capital a nivel nacional por ello dice capital de la República.

-Por otra parte, podemos observar que cada región tiene un nombre que sirve para identificarla y cada región tendrá una capital regional.

	Control del Proceso Educativo Guía 7 Historia, Geografía y Ciencias Sociales 2° Básico			7. 5. 1.
	<i>Instituto San Lorenzo</i>	<i>Coordinación Educación Básica</i>	<i>Rev.01 Pág. 4 de 4</i>	

-En Chile la Capital de la República recibe el nombre de Santiago y la región en la cual se encuentra se llama Región Metropolitana de Santiago.

-Vives en la Región del Libertador General Bernardo O` Higgins.

Actividad:

1.- Usando tu libro de historia, anota la capital regional de las siguientes regiones:

Región	Capital regional
Región de Tarapacá	
Región de O` Higgins	
Región de Magallanes y la Antártica Chilena	
Región de Atacama	
Región de los Lagos	
Región del Biobío	

2.- Observando el mapa de Chile, indica las regiones con las que limita, es decir las que se encuentran en el norte y sur de:

Región	Límite Norte	Límite Sur
Región de Antofagasta		
Región del Maule		
Región de la Araucanía		
Región de Aysén del General Carlos Ibáñez del Campo.		

3.- Observando el mapa y considerando la información de esta guía, indica:

- El o los países que limitan al este de nuestro país es o son:

- Al oeste Chile limita con: